

UZUPEŁNIA ZDAJĄCY

KOD			PESEL																
<input type="text"/>	<input type="text"/>	<input type="text"/>	<input type="text"/>	<input type="text"/>	<input type="text"/>	<input type="text"/>	<input type="text"/>	<input type="text"/>	<input type="text"/>	<input type="text"/>	<input type="text"/>	<input type="text"/>	<input type="text"/>	<input type="text"/>	<input type="text"/>	<input type="text"/>	<input type="text"/>	<input type="text"/>	<input type="text"/>

*miejsce
na naklejkę*

EGZAMIN MATURALNY Z FIZYKI

POZIOM ROZSZERZONY

DATA: **14 maja 2018 r.**

GODZINA ROZPOCZĘCIA: **9:00**

CZAS PRACY: **180 minut**

LICZBA PUNKTÓW DO UZYSKANIA: **60**

Instrukcja dla zdającego

1. Sprawdź, czy arkusz egzaminacyjny zawiera 21 stron (zadania 1–16). Ewentualny brak zgłoś przewodniczącemu zespołu nadzorującego egzamin.
2. Rozwiązania i odpowiedzi zapisz w miejscu na to przeznaczonym przy każdym zadaniu.
3. W rozwiązaniach zadań rachunkowych przedstaw tok rozumowania prowadzący do ostatecznego wyniku oraz pamiętaj o jednostkach.
4. Pisz czytelnie. Używaj długopisu/pióra tylko z czarnym tuszem/atramentem.
5. Nie używaj korektora, a błędne zapisy wyraźnie przekreśl.
6. Pamiętaj, że zapisy w brudnopisie nie będą oceniane.
7. Możesz korzystać z *Wybranych wzorów i stałych fizykochemicznych na egzamin maturalny z biologii, chemii i fizyki*, linijki oraz kalkulatora prostego.
8. Na tej stronie oraz na karcie odpowiedzi wpisz swój numer PESEL i przyklej naklejkę z kodem.
9. Nie wpisuj żadnych znaków w części przeznaczonej dla egzaminatora.



MFA-R1_1P-182

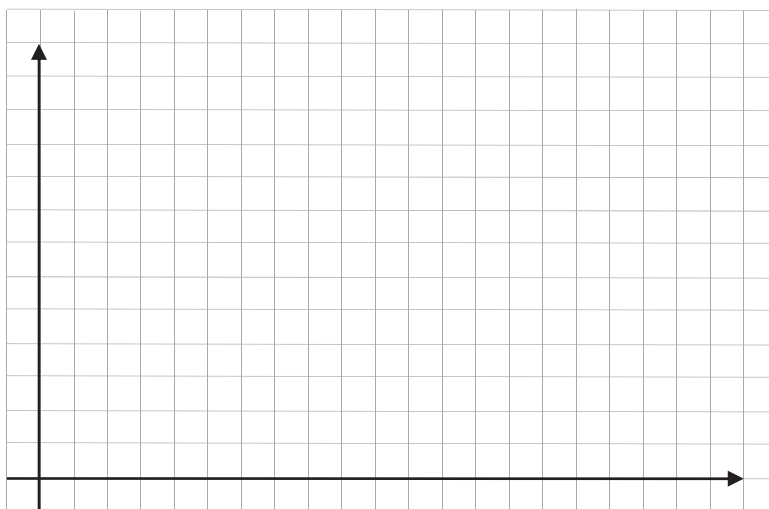
NOWA FORMUŁA

Zadanie 1.


Rozważamy ruch dwóch samochodów, które poruszały się po poziomym i prostym odcinku trasy. Pierwszy samochód ruszył i jadąc ze stałym przyspieszeniem, rozpedził się w czasie 2 s do prędkości o wartości $10 \frac{\text{m}}{\text{s}}$. Następnie przez 6 s jechał ze stałą prędkością, a potem przez 2 s hamował ze stałym opóźnieniem, aż do zatrzymania się. Drugi samochód ruszył równocześnie z pierwszym. Przez pierwszą połowę czasu trwania ruchu rozpedzał się ze stałym przyspieszeniem, a potem hamował ze stałym opóźnieniem, aż do zatrzymania się. Oba samochody przebyły tę samą drogę w tym samym czasie.

Zadanie 1.1. (0–2)

Narysuj wykres zależności $v(t)$ – wartości prędkości od czasu – dla ruchu pierwszego samochodu.

**Zadanie 1.2. (0–3)**

Oblicz całkowitą drogę przebytą przez pierwszy samochód oraz maksymalną wartość prędkości drugiego samochodu.



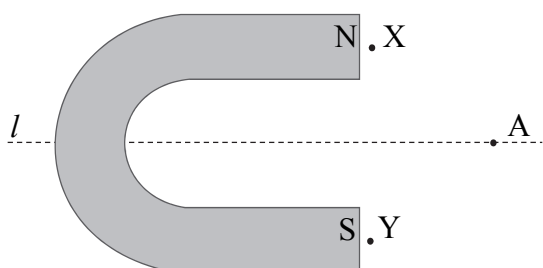
Zadanie 2. (0–2)

W pobliżu magnesu podkowiastego porusza się cząstka o dodatnim ładunku elektrycznym. W chwili, gdy cząstka znajduje się w punkcie A i przechodzi przez płaszczyznę rysunku, wektor prędkości cząstki jest skierowany prostopadłe za tę płaszczyznę. Na obu poniższych rysunkach literami N, S oznaczono bieguny magnesu.

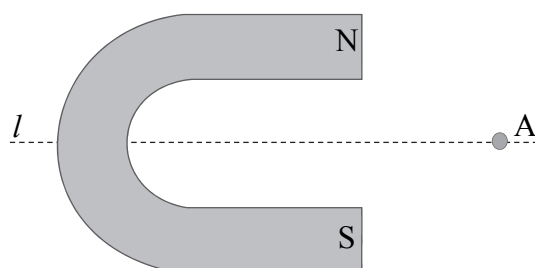
Założ, że pole magnetyczne pochodzi tylko od magnesu, a kształt linii pola magnetycznego w płaszczyźnie rysunku jest symetryczny względem prostej l . Pomiń wpływ innych pól.

- a) Narysuj na rysunku 1. wektory indukcji magnetycznej \vec{B} w punktach X, Y oraz A.
 b) Zaznacz na rysunku 2. kierunek i zwrot siły działającej na tę cząstkę w chwili, gdy cząstka przechodzi przez płaszczyznę rysunku w punkcie A.

Rysunek 1.



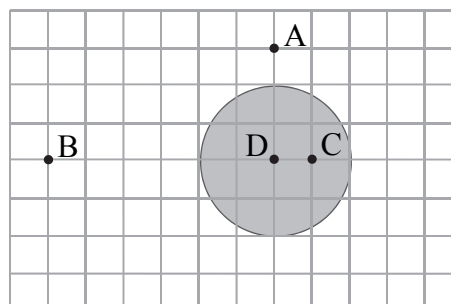
Rysunek 2.

**Zadanie 3. (0–2)**


Metalową kulkę naładowano ładunkiem elektrycznym. Na rysunku poniżej przedstawiono przekrój tej kulki płaszczyzną przechodzącą przez jej środek (punkt D). Wartość natężenia pola elektrycznego w punkcie A jest równa E . Przyjmij, że pole elektryczne może pochodzić tylko od ładunku kulki.

Uzupełnij tabelę: wpisz w puste komórki wartości natężenia pola elektrycznego w pozostałych punktach.

Punkt	A	B	C	D
Wartość natężenia pola elektrycznego	E			

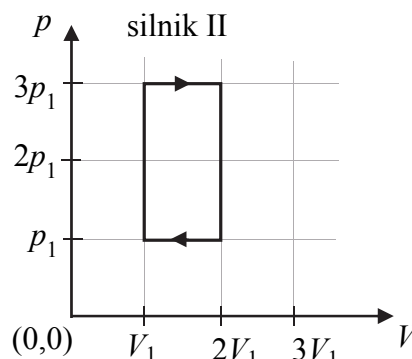
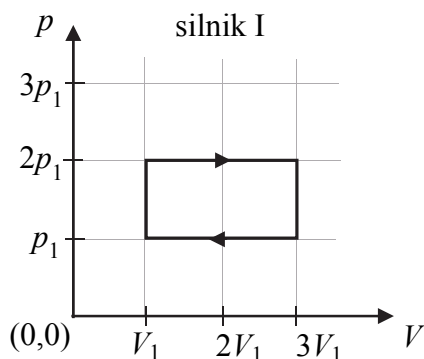


Wypełnia egzaminator	Nr zadania	1.1.	1.2.	2.	3.
	Maks. liczba pkt	2	3	2	2
	Uzyskana liczba pkt				



Zadanie 8.

Na wykresach poniżej przedstawiono cykle termodynamiczne dwóch silników cieplnych. Osie na obu wykresach są wyskalowane tak samo. Substancją roboczą w każdym silniku jest 1 mol gazu doskonałego o tym samym cieple molowym. Silnik I w jednym cyklu pracy oddaje łącznie 19 kJ ciepła, a pobiera łącznie 23 kJ ciepła (3 kJ w przemianie izochorycznej i 20 kJ w przemianie izobarycznej).




Zadanie 8.1. (0–2)

W poniższych zdaniach podkreśl właściwe określenia, tak aby relacje pomiędzy wielkościami dotyczącymi obu silników były prawdziwe.

1. Praca całkowita wykonana w jednym cyklu przez silnik I jest (*mniejsza niż / taka sama jak / większa niż*) praca całkowita wykonana w jednym cyklu przez silnik II.
2. Maksymalna temperatura gazu w silniku I jest (*mniejsza niż / taka sama jak / większa niż*) maksymalna temperatura gazu w silniku II.

Zadanie 8.2. (0–1)


Oblicz sprawność silnika I.



Wypełnia egzaminator	Nr zadania	7.1.	7.2.	8.1.	8.2.
	Maks. liczba pkt	1	3	2	1
	Uzyskana liczba pkt				

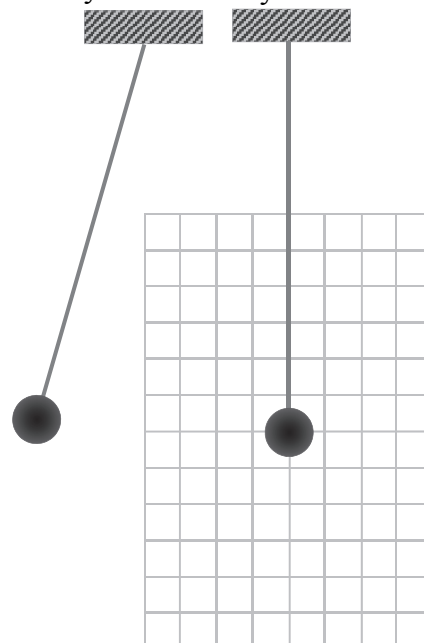
Zadanie 8.3. (0–2)

Wyznacz ciepło pobrane w przemianie izochorycznej przez silnik II. Powołaj się na odpowiednie zależności.

**Zadanie 9.**

Kulę o promieniu 40 cm zawieszono na linie o długości 6 m. Następnie układ wychylnono o pewien kąt i puszczono swobodnie. Rysunek 1. przedstawia sytuację w chwili, gdy kula jest wychylona maksymalnie względem pionu, natomiast rysunek 2. – gdy kula przechodzi przez najniższy punkt toru (a lina – przez położenie pionowe).

Rysunek 1. Rysunek 2.

**Zadanie 9.1. (0–1)**

Przyjmij, że na kulę działają dwie siły: \vec{F}_r – siła reakcji napiętej liny, \vec{F}_g – siła grawitacji. Pomiń siłę oporu powietrza. Analizę przeprowadź w układzie odniesienia związanym z Ziemią i przyjmij, że jest on inercjalny.

Na rysunku 2. – czyli w chwili, gdy kula przechodzi przez najniższy punkt toru – dorysuj wektory tych sił wraz z ich oznaczeniem. Zachowaj relacje (większy, mniejszy, równy) między wartościami sił i zapisz poniżej tę relację – wstaw jeden ze znaków: $>$, $=$, $<$.

$$F_r \dots\dots\dots F_g$$

Zadanie 9.2. (0–2)

Oszacuj czas, po jakim kula dotrze od najwyższego do najniższego punktu toru jej ruchu.

Wykorzystaj wartość przyspieszenia ziemskiego równą $g = 9,81 \frac{\text{m}}{\text{s}^2}$ i pominię masę liny.

Wynik podaj z dokładnością do dwóch cyfr znaczących.

**Zadanie 9.3. (0–1)**

W opisanym doświadczeniu zmierzono bezpośrednio czas, po jakim kula dotrze od najwyższego do najniższego punktu toru jej ruchu. Wynik doświadczenia nieco różnił się od wyniku, jaki przewidywali wcześniej eksperymetatorzy na podstawie modelu wahadła matematycznego dla tego zjawiska. Przyjmij, że pomiary czasu zostały wykonane starannie i z użyciem bardzo precyzyjnych przyrządów, natomiast w obliczeniach, które miały przewidzieć wynik, wykorzystano dokładną wartość przyspieszenia ziemskiego w danym miejscu i bardzo dokładne wymiary liny oraz kuli.

Zapisz poniżej dwa spośród założeń przyjętego modelu zjawiska, które mogły nie zostać spełnione w doświadczeniu.

1.
2.

Wypełnia egzaminator	Nr zadania	8.3.	9.1.	9.2.	9.3.
	Maks. liczba pkt	2	1	2	1
	Uzyskana liczba pkt				

Zadanie 10.

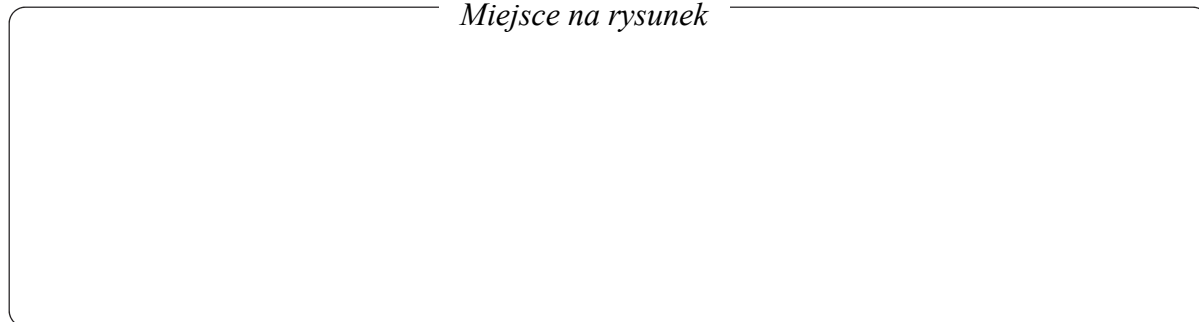
Do pomiaru siły elektromotorycznej (SEM) i oporu wewnętrznego baterii zastosowano woltmierz i zestaw 8 oporników o oporze $4\ \Omega$ każdy. Wykonano sześć pomiarów. Odpowiednio łączono różne liczby oporników, dzięki czemu za każdym razem otrzymywano układ o innym oporze zastępczym. Następnie mierzono napięcie U pomiędzy biegunami ogniwa, gdy dołączono do niego układ oporników o danym oporze zastępczym R . Wyniki kolejnych pomiarów przedstawia tabela obok. Pomiary napięć wykonano z dokładnością do $0,2\ \text{V}$. Przyjmij, że wartości oporów w tabeli są dokładne.

l.p.	R, Ω	U, V
1	1	2,7
2	2	3,8
3	4	4,6
4	8	5,2
5	16	5,6
6	32	5,8

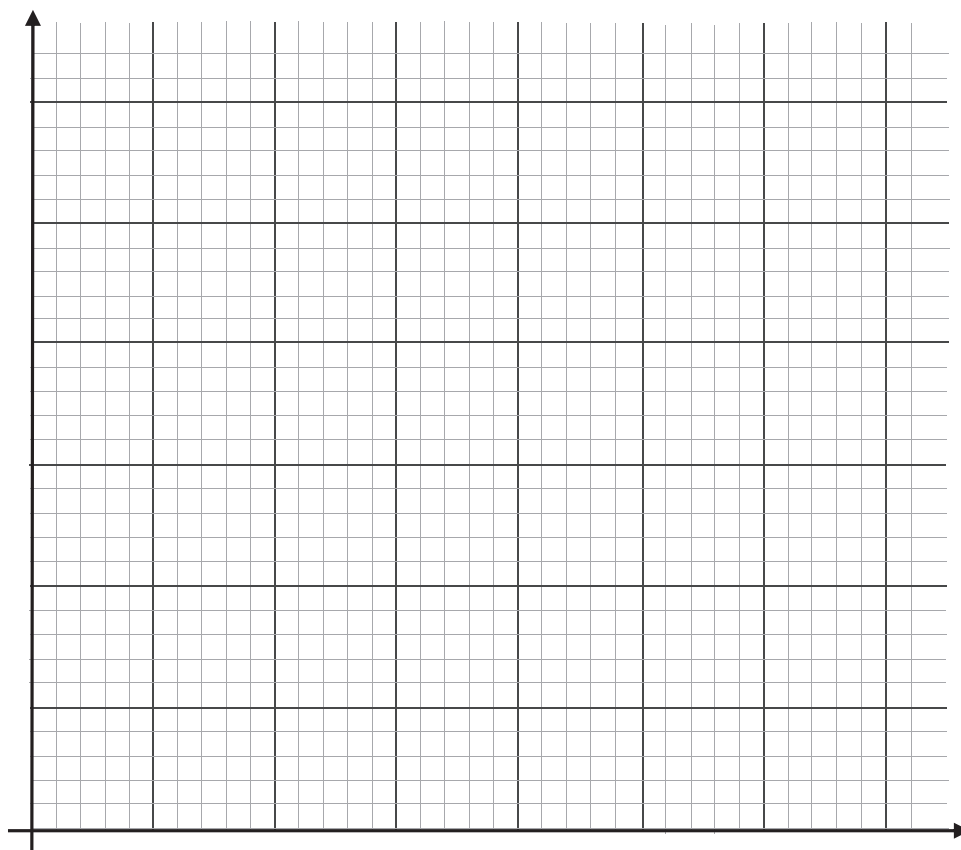
Zadanie 10.1. (0–1)

Narysuj jeden z możliwych schematów obwodu z opornikami, w którym wykonano pomiar nr 2. Uwzględnij właściwe połączenie oporników.


Miejsce na rysunek

**Zadanie 10.2. (0–4)**

a) Narysuj wykres zależności $U(R)$. W tym celu zaznacz punkty pomiarowe oraz niepewności U , a następnie wykreśl krzywą.




b) Oszacuj wartość SEM baterii na podstawie wykresu narysowanego w punkcie a) (bez wykonywania obliczeń).



Zadanie 10.3. (0–2)

Oblicz wartość SEM oraz opór wewnętrzny ogniwa. Możesz wykorzystać dane w tabeli z dwóch dowolnie wybranych pomiarów. Pomiń niepewności pomiarów napięcia.



Wypełnia egzaminator	Nr zadania	10.1.	10.2.	10.3.
	Maks. liczba pkt	1	4	2
	Uzyskana liczba pkt			

Zadanie 13.

W pewnym doświadczeniu strumień cząstek α (jąder helu) skierowano prostopadle na cienką folię ze złota, umieszczoną w próżni.

Zadanie 13.1. (0–1)

Na rysunku poniżej zaznaczono dwie cząstki α (z różnych chwil czasu) zbliżające się do jądra złota z początkowo jednakowymi prędkościami. Przyjmujemy, że cząstki α przelatują obok jądra złota jedna po drugiej w takim odstępie czasu, że nie dochodzi do wzajemnego oddziaływania między tymi cząstkami. Zakładamy, że każda z cząstek α , gdy przechodzi w pobliżu jądra, oddziałuje tylko z tym jednym jądrem złota, a ponadto jądro złota pozostaje nieruchome.

Na rysunku poniżej naszkicuj przybliżone tory ruchu obu cząstek α .

**Zadanie 13.2. (0–1)**

Wyniki doświadczenia opisanego w zadaniu 13. okazały się następujące. Bardzo duża część wystrzelonych cząstek α przelatywała przez folię ze złota prawie bez zmiany kierunku ruchu, niewielka część z nich po przejściu przez folię zmieniała kierunek ruchu, a znikoma część cząstek α odbijała się od folii pod różnymi kątami. Eksperymentatorzy, chcący poznać budowę atomu, założyli, że zmiana kierunku ruchu cząstek α jest spowodowana oddziaływaniem Coulomba z ładunkami znajdującymi się w atomach złota. Ponadto wiedzieli oni, że nośnikami ładunku ujemnego są elektrony, a każdy z nich jest kilka tysięcy razy lżejszy od cząstki α .

Zaznacz prawidłowe dokończenie zdania wybrane spośród A–C oraz 1.–3.

Wyniki eksperymentu przemawiały za tym, aby przyjąć model atomu, w którym

A.	ładunek dodatni jest rozmieszczony w atomie tak samo jak ładunek ujemny,	a jego masa	1.	jest dużo większa od całej masy ładunku ujemnego.
B.	większą część atomu równomiernie wypełnia tylko ładunek dodatni,		2.	jest dużo mniejsza od całej masy ładunku ujemnego.
C.	ładunek dodatni zajmuje bardzo małą część atomu,		3.	jest taka sama jak cała masa ładunku ujemnego.

Zadanie 14. (0–1)

Źródło światła Z_1 emituje światło czerwone, a źródło światła Z_2 – zielone. Oba źródła emitują światło z tą samą mocą.

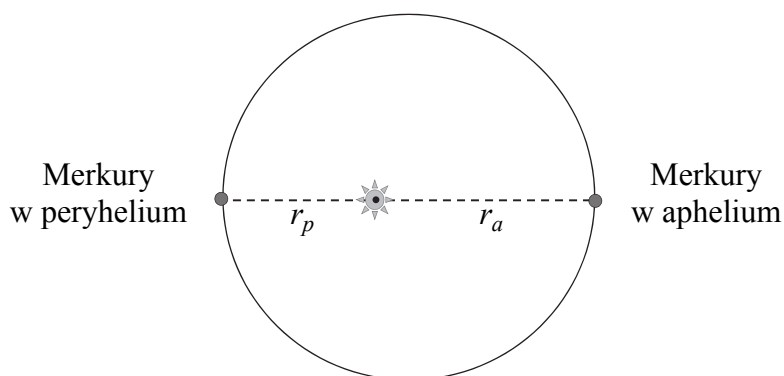
Zaznacz właściwe dokończenie zdania wybrane spośród A–C oraz jego poprawne uzasadnienie wybrane spośród 1.–3.

Liczba fotonów emitowanych w jednostce czasu przez źródło Z_1 w porównaniu z liczbą fotonów emitowanych w jednostce czasu przez źródło Z_2 jest

A.	większa,	ponieważ	1.	światło emitowane przez źródło Z_1 ma mniejszą częstotliwość.
B.	mniejsza,		2.	światło emitowane przez źródło Z_1 ma większą częstotliwość.
C.	taka sama,		3.	wartości mocy, z jakimi źródła emitują światło, zależą tylko od liczby fotonów wysyłanych w jednostce czasu.

Zadanie 15.

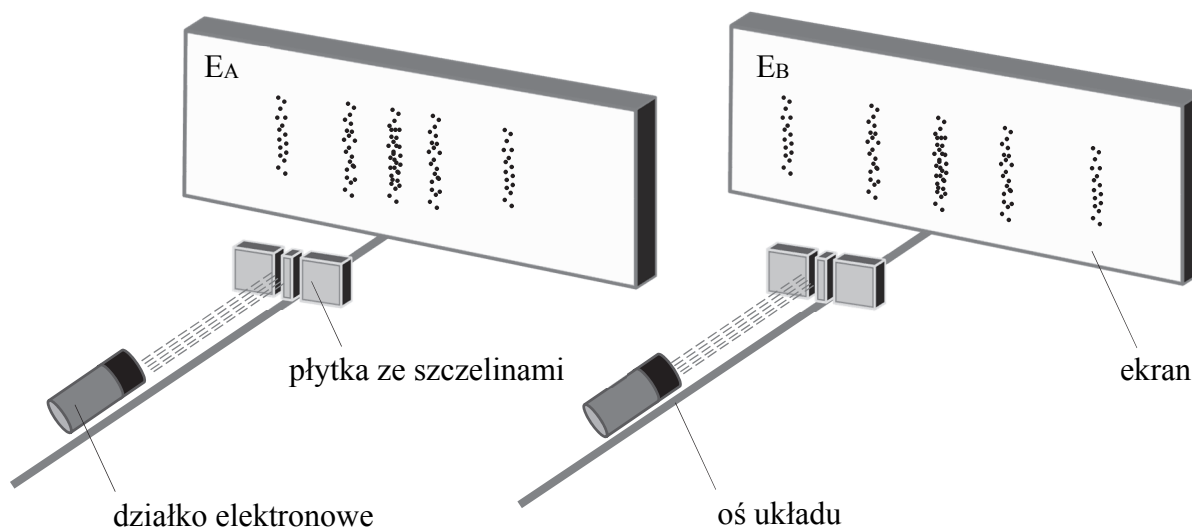
W dniu 9 maja 2016 roku miało miejsce zjawisko astronomiczne – tranzyt Merkurego. Merkury, obserwowany z Ziemi, powoli przesunął się na tle tarczy Słońca. Zjawisko trwało około 7,5 godziny. Podczas tranzytu Merkury znajdował się blisko aphelium swojej orbity. Aphelium jest punktem na orbicie planety, który leży w największej odległości od Słońca, natomiast perihelium jest punktem na orbicie planety leżącym najbliżej Słońca (zobacz rysunek poniżej). Aphelium orbity Merkurego znajduje się w odległości $r_a = 0,467$ jednostki astronomicznej od środka Słońca, a Merkury, przechodząc przez aphelium, porusza się z prędkością $38,9 \frac{\text{km}}{\text{s}}$ względem Słońca. Różnica odległości Merkurego od środka Słońca w aphelium i perihelium jest równa 0,159 jednostki astronomicznej.



Wektor prędkości planety w każdym z tych punktów (perihelium i aphelium) jest prostopadły do promienia wodzącego – łączącego środek Słońca z planetą.

Zadanie 16. (0–1)

Dwie wiązki elektronów skierowano prostopadle na dwa jednakowe ekrany: E_A i E_B . W jednej z tych wiązek elektrony były rozpędzone do większych prędkości niż w drugiej wiązce. Przed każdym z ekranów, na drodze obu wiązek elektronów, znajdowała się płytka z układem dwóch równoległych, bardzo wąskich szczelin, leżących bardzo blisko siebie. Odległości pomiędzy szczelinami w obu płytkach były takie same, a ponadto odległości każdej z płytek do ekranu były sobie równe. Zaobserwowano, że elektrony padające na ekrany utworzyły różne obrazy w postaci prążków, podobne do tych, jakie ukazano na schematycznych rysunkach poniżej.



Zaznacz właściwe dokończenie zdania wybrane spośród A–B oraz jego poprawne uzasadnienie wybrane spośród 1.–4.

Wiązka elektronów rozpędzonych do większych prędkości utworzyła obraz na ekranie

A.	E_A ,	co można uzasadnić przez odwołanie się m.in. do	1.	wzoru na kąt Brewstera.
			2.	bilansu energii w zjawisku fotoelektrycznym.
B.	E_B ,		3.	prawa załamania fali na granicy ośrodków.
			4.	wzoru de Broglie'a.

BRUDNOPIS (*nie podlega ocenie*)

A large grid of graph paper, consisting of 20 columns and 30 rows of small squares, intended for writing a rough draft. The grid is empty and occupies most of the page.